

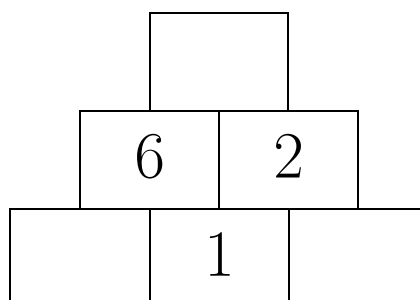
Trójkąty liczbowe

Naturalnie i całkowicie

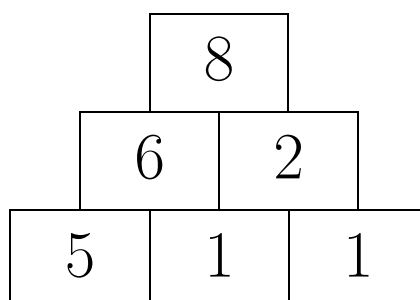
Trójkąty? Prostokąty!

1 Zadanie – Trójkąt liczbowy, dodawanie, 1–10

W poniższym trójkącie liczbowym w każdym prostokącie poza najniższym wierszem musi znajdować się liczba będąca sumą liczb z dwóch najbliższych prostokątów z niższego wiersza. W puste prostokąty wpisz odpowiednie liczby.

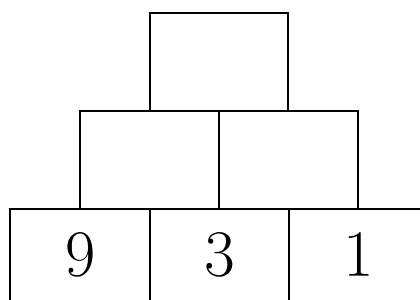


Odpowiedź:

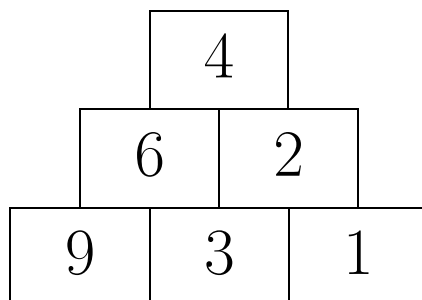


2 Zadanie – Trójkąt liczbowy, odejmowanie, 1–10

W poniższym trójkącie liczbowym w każdym prostokącie poza najniższym wierszem musi znajdować się liczba będąca różnicą liczb z dwóch najbliższych prostokątów z niższego wiersza: od liczby w lewym prostokącie odejmowana jest liczba w prawym prostokącie. W puste prostokąty wpisz odpowiednie liczby.

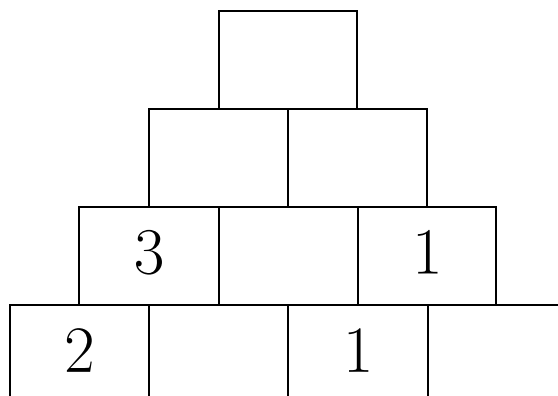


Odpowiedź:

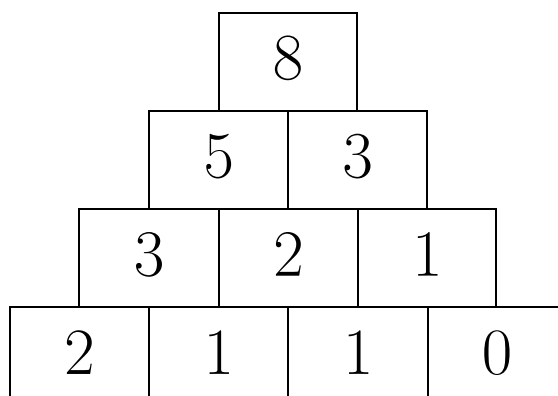


3 Zadanie – Trójkąt liczbowy, dodawanie, 0–10

W poniższym trójkącie liczbowym w każdym prostokącie poza najniższym wierszem musi znajdować się liczba będąca sumą liczb z dwóch najbliższych prostokątów z niższego wiersza. W puste prostokąty wpisz odpowiednie liczby.

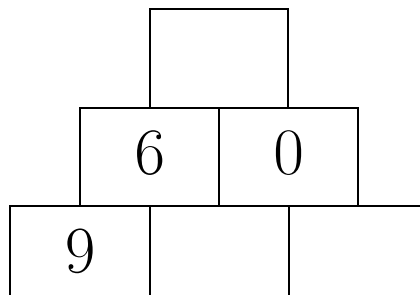


Odpowiedź:

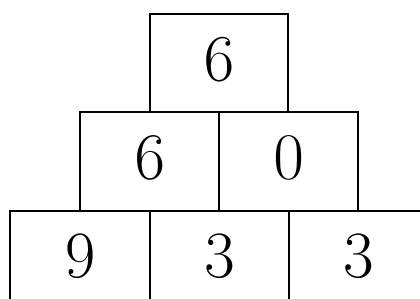


4 Zadanie – Trójkąt liczbowy, odejmowanie, 0–10

W poniższym trójkącie liczbowym w każdym prostokącie poza najniższym wierszem musi znajdować się liczba będąca różnicą liczb z dwóch najbliższych prostokątów z niższego wiersza: od liczby w lewym prostokącie odejmowana jest liczba w prawym prostokącie. W puste prostokąty wpisz odpowiednie liczby.

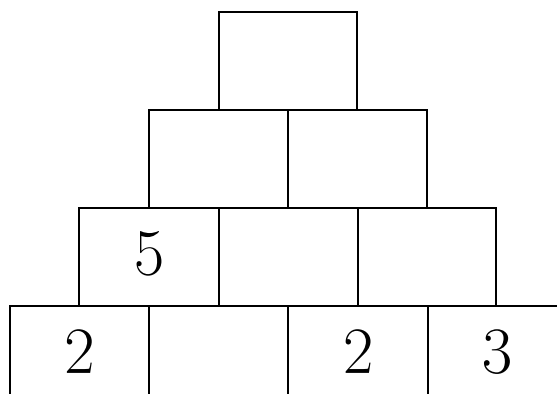


Odpowiedź:

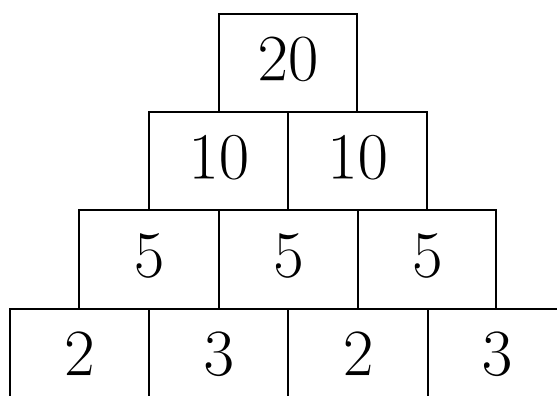


5 Zadanie – Trójkąt liczbowy, dodawanie, 0–20

W poniższym trójkącie liczbowym w każdym prostokącie poza najniższym wierszem musi znajdować się liczba będąca sumą liczb z dwóch najbliższych prostokątów z niższego wiersza. W puste prostokąty wpisz odpowiednie liczby.

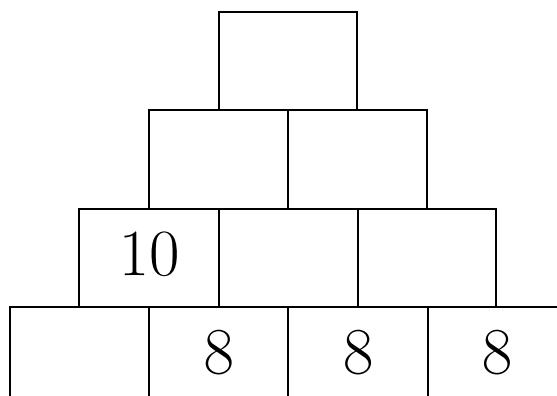


Odpowiedź:

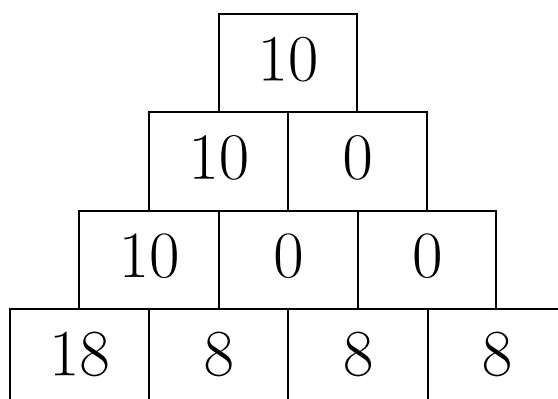


6 Zadanie – Trójkąt liczbowy, odejmowanie, 0–20

W poniższym trójkącie liczbowym w każdym prostokącie poza najniższym wierszem musi znajdować się liczba będąca różnicą liczb z dwóch najbliższych prostokątów z niższego wiersza: od liczby w lewym prostokącie odejmowana jest liczba w prawym prostokącie. W puste prostokąty wpisz odpowiednie liczby.

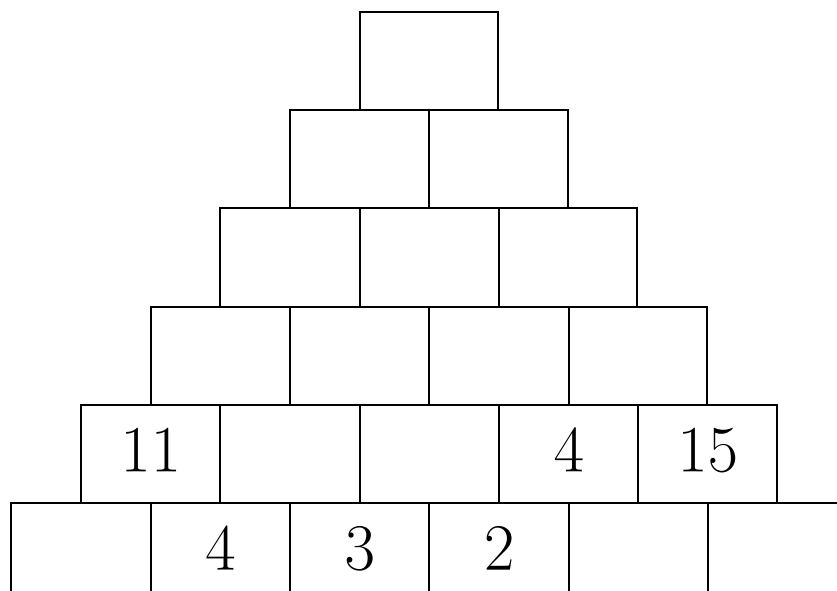


Odpowiedź:

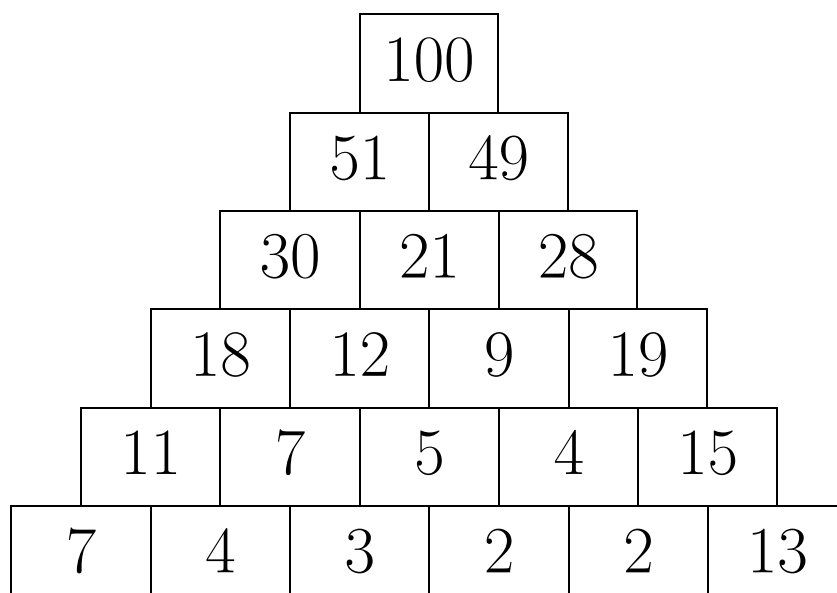


7 Zadanie – Trójkąt liczbowy, dodawanie, 0–100

W poniższym trójkącie liczbowym w każdym prostokącie poza najniższym wierszem musi znajdować się liczba będąca sumą liczb z dwóch najbliższych prostokątów z niższego wiersza. W puste prostokąty wpisz odpowiednie liczby.

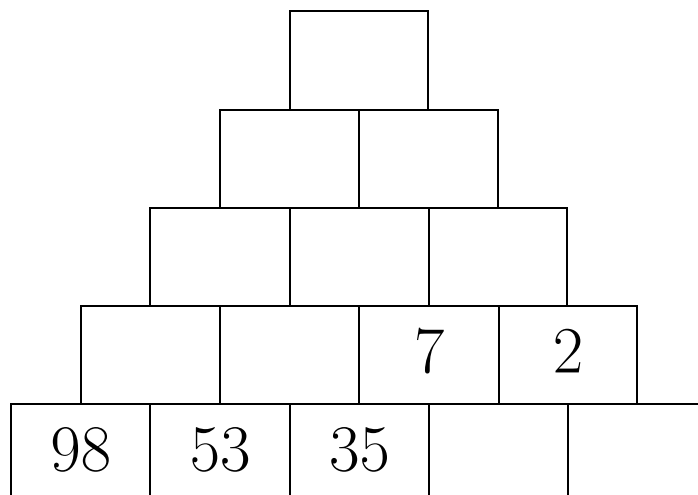


Odpowiedź:



8 Zadanie – Trójkąt liczbowy, odejmowanie, 0–100

W poniższym trójkącie liczbowym w każdym prostokącie poza najniższym wierszem musi znajdować się liczba będąca różnicą liczb z dwóch najbliższych prostokątów z niższego wiersza: od liczby w lewym prostokącie odejmowana jest liczba w prawym prostokącie. W puste prostokąty wpisz odpowiednie liczby.



Odpowiedź:

